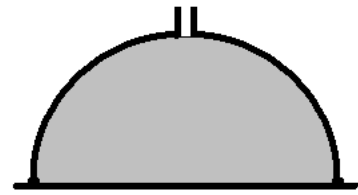
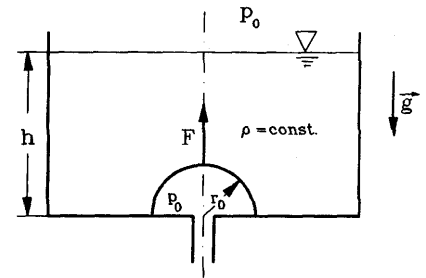


1. Ein Gefäß in Form einer Halbkugel mit dem Radius R liegt auf einer Gummitatte. Wenn es bis oben mit Wasser gefüllt ist, wird die Kontaktstelle zwischen dem Gefäß und der Matte undicht und das Wasser beginnt auszufließen. Zu bestimmen ist die Masse M der Halbkugel.

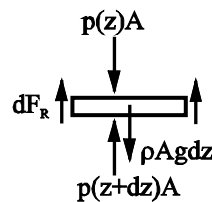
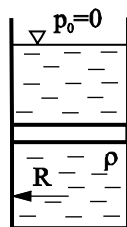


2. Der Abfluß eines Wasserbehälters (Füllhöhe h) ist durch eine Halbkugelschale (Gewicht G , Radius r_0) abgeschlossen. Welche Kraft F ist notwendig, um den Abfluß zu öffnen?



3. Zu bestimmen ist der Druck in der Mitte der Erde. Nehmen Sie die Dichte als konstant an: $\rho \approx 10^4 \text{ kg/m}^3$. Der Radius der Erde ist $R \approx 6400 \text{ km}$.

4. Ein zylindrisches Gefäß (Radius R) ist mit Sand gefüllt. Der Reibungskoeffizient des Sandes mit der Wand sei μ . Zu bestimmen ist der Druck im Sand als Funktion der Höhe.



5. Leiten Sie die Bewegungsgleichung für Balkenschwingungen mit Berücksichtigung der Rotationsbewegung der Balkenelemente her!